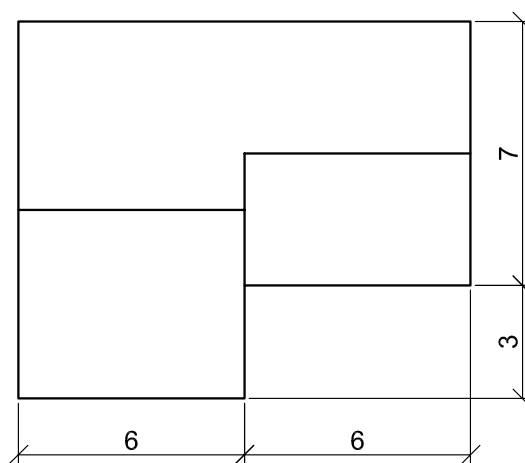
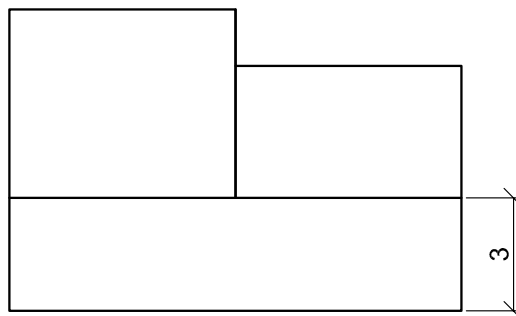
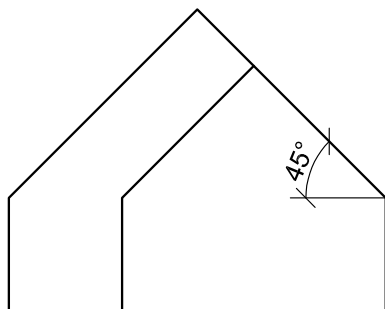


V11: SKLOPENÝ PŮDORYS

V lineární perspektivě zobrazte střechu s praktickou úpravou danou následujícími pohledy (půdorys, nárys, pohled zprava). Střešní roviny mají sklon 45° , okapy leží ve výši 3 m, rozměry jsou uvedeny v metrech.



Perspektivu si zadejte podle následujícího náčrtu. Rýsujte na A4 naležato, hlavní vertikálu volte uprostřed stránky, aby oba úběžníky vyšly na papír. Použijte měřítko 1 : 100.

